

Nom :

Prénom :

Dans tous les exercices de tracés, les traits de construction doivent apparaître.
Il sera accordé une attention toute particulière à la propreté et à la précision des tracés effectués.

► Exercice 1 2 pts

Donner la définition de :

- la médiane :
.....
.....
.....
.....
- la bissectrice :
.....
.....
.....
.....

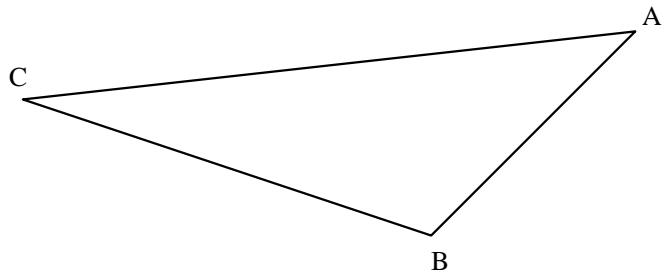
► Exercice 2 2 pts

Comment s'appelle le point de concours des :

- médiatrices :
.....
- hauteurs :
.....

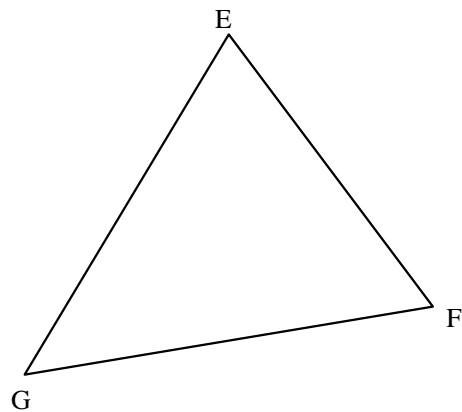
► Exercice 3 3 pts

Tracer à la règle et au compas les trois hauteurs du triangle suivant afin de faire apparaître leur point de concours.



► Exercice 4 3 pts

Tracer à la règle et au compas le cercle circonscrit au triangle suivant



Nom :

Prénom :

Dans tous les exercices de tracés, les traits de construction doivent apparaître.
Il sera accordé une attention toute particulière à la propreté et à la précision des tracés effectués.

► Exercice 1

2 pts

Donner la définition de :

- la médiatrice :
 -
 -
 -
 -
 -
 -
 -
 -
 -
 -
 -
 -
 -
 -
- la hauteur :
 -
 -
 -
 -
 -
 -
 -
 -
 -
 -
 -
 -
 -
 -

► Exercice 2

2 pts

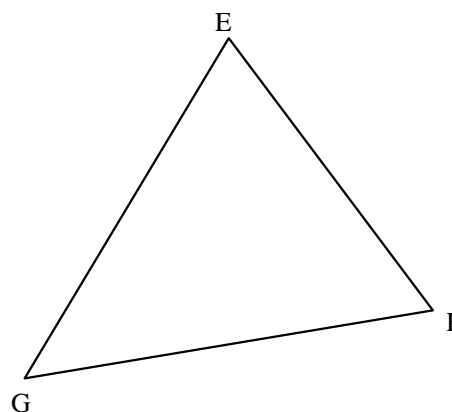
Comment s'appelle le point de concours des :

- médianes :
 -
 -
 -
 -
 -
 -
 -
 -
 -
 -
 -
 -
 -
 -
- bissectrices :
 -
 -
 -
 -
 -
 -
 -
 -
 -
 -
 -
 -
 -
 -

► Exercice 3

3 pts

Tracer à la règle et au compas les trois hauteurs du triangle suivant afin de faire apparaître leur point de concours.



► Exercice 4

3 pts

Tracer à la règle et au compas le cercle circonscrit au triangle suivant

