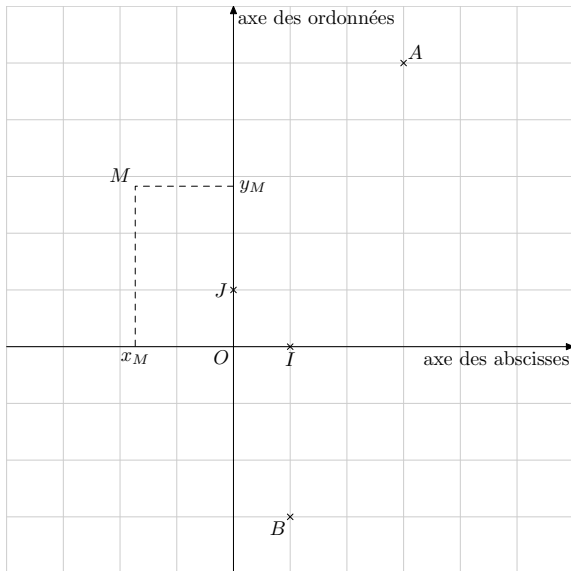


1 Coordonnées d'un point

Définition 1 *Deux axes gradués de même origine et perpendiculaires définissent un repère orthogonal. De plus, si les axes possèdent la même unité de longueur alors le repère est dit orthonormé.*



Dans l'exemple ci-contre, on dira que les coordonnées du point M sont (x_M, y_M) , que celles du point A sont $(3;5)$ et que celles du point B sont $(1; -3)$.

Propriété 1 Dans un repère quelconque, soit A et B deux points de coordonnées respectives $(x_A; y_A)$ et $(x_B; y_B)$. Alors les coordonnées du point K , milieu du segment $[AB]$ sont

$$x_K = \frac{x_A + x_B}{2} \qquad y_K = \frac{y_A + y_B}{2}$$

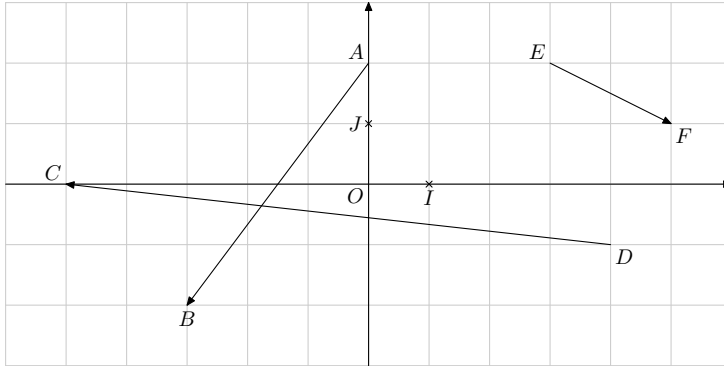
Exemple Sur la figure ci-dessus, le milieu K du segment $[AB]$ a pour coordonnées

$$\begin{aligned} x_K &= \frac{x_A + x_B}{2} & y_K &= \frac{y_A + y_B}{2} \\ x_K &= \frac{3 + 1}{2} & y_K &= \frac{5 + (-3)}{2} \\ x_K &= \frac{4}{2} & y_K &= \frac{2}{2} \\ x_K &= 2 & y_K &= 1 \end{aligned}$$

2 Coordonnées d'un vecteur

Propriété 2 Dans un repère quelconque, soit E et F deux points de coordonnées respectives $(x_E; y_E)$ et $(x_F; y_F)$. Alors les coordonnées du vecteur \overrightarrow{EF} sont

$$(x_F - x_E; y_F - y_E)$$



Exemples

Sur la figure ci-dessus, on a

$$\overrightarrow{AB}(x_B - x_A; y_B - y_A)$$

$$\overrightarrow{AB}(-3 - 0; -2 - 2)$$

$$\overrightarrow{AB}(-3; -4)$$

$$\overrightarrow{DC}(x_C - x_D; y_C - y_D)$$

$$\overrightarrow{DC}(-5 - 4; 0 - (-1))$$

$$\overrightarrow{DC}(-9; 1)$$

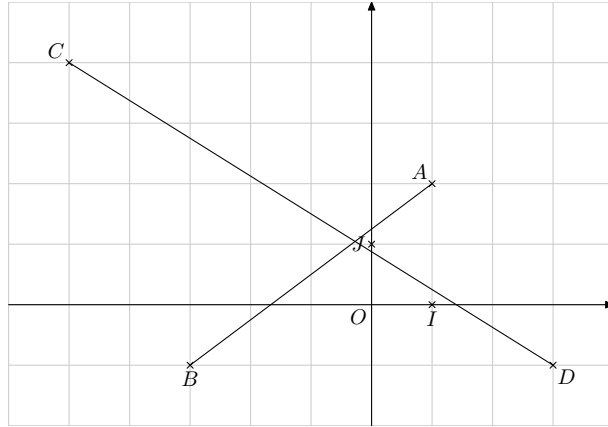
Vérification graphique Le déplacement de A à B correspond graphiquement à un déplacement horizontal de 3 unités dans le sens négatif suivi d'un déplacement vertical de 4 unités dans le sens négatif.

Propriété 3 Deux vecteurs égaux ont les mêmes coordonnées.

3 Distance dans un repère orthonormé

Propriété 4 Dans un repère orthonormé, soit E et F deux points de coordonnées respectives $(x_E; y_E)$ et $(x_F; y_F)$. Alors, on a

$$EF^2 = (x_F - x_E)^2 + (y_F - y_E)^2 \quad \text{et} \quad EF = \sqrt{(x_F - x_E)^2 + (y_F - y_E)^2}$$



Exemples Sur la figure ci-dessus, le repère est orthonormé : on a donc

$$AB^2 = (x_B - x_A)^2 + (y_B - y_A)^2$$

$$AB^2 = (-3 - 4)^2 + (-1 - 5)^2$$

$$AB^2 = (-7)^2 + (-6)^2$$

$$AB^2 = 49 + 36$$

$$AB^2 = 85$$

$$AB = \sqrt{85}$$

$$CD^2 = (x_D - x_C)^2 + (y_D - y_C)^2$$

$$CD^2 = (3 - (-5))^2 + (-1 - 0)^2$$

$$CD^2 = (8)^2 + (-1)^2$$

$$CD^2 = 64 + 1$$

$$CD^2 = 65$$

$$CD = \sqrt{65}$$

Remarques Les réponses sont données dans l'unité de longueur commune aux deux axes.

4 Exercice d'application

Le plan est muni d'un repère orthonormé (O, I, J) . L'unité choisie est le centimètre. Faire une figure et la compléter au fur et à mesure.

- Placer les points $A(4;5)$, $B(0;-3)$ et $C(-6;0)$.
- Montrer que $AB = \sqrt{80} \text{ cm}$, $AC = \sqrt{125} \text{ cm}$ et $BC = \sqrt{45} \text{ cm}$.
On utilise la Propriété 4.
 - En déduire que ABC est un triangle rectangle. Préciser l'angle droit.
On utilise la réciproque du Théorème de Pythagore.

3. (a) Construis le point D tel que $\overrightarrow{AB} = \overrightarrow{DC}$.
- (b) Démontrer que $ABCD$ est un rectangle.
On démontre que $ABCD$ est un parallélogramme qui possède un angle droit.
- (c) Calculer les coordonnées de \overrightarrow{AB} .
On utilise la Propriété 2.
- (d) Vérifier à l'aide d'un calcul que les coordonnées du point D sont $(-2; 8)$.
Les vecteurs \overrightarrow{AB} et \overrightarrow{DC} sont égaux donc leurs coordonnées sont égales.
4. (a) Calculer les coordonnées du point K milieu du segment $[AC]$.
On utilise la Propriété 1.
- (b) Que représente le point K pour le quadrilatère $ABCD$?
Pensez aux diagonales.

