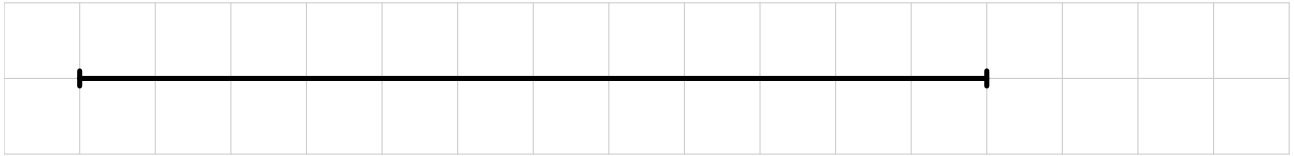
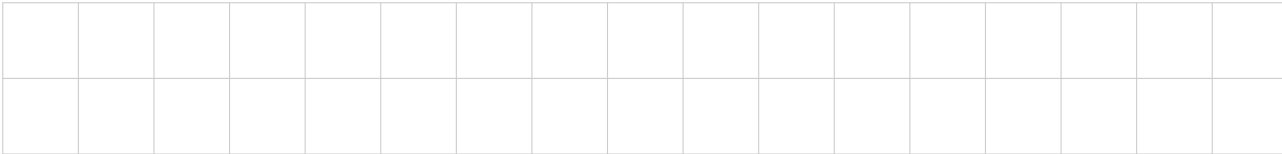



Voici un segment :



1/ Construis un segment dont la longueur est  $\frac{1}{4}$  de la longueur du segment donné.



2/ Construis un segment dont la longueur est  $\frac{1}{6}$  de la longueur du segment donné.



3/ Construis un segment dont la longueur est  $\frac{5}{4}$  de la longueur du segment donné.

