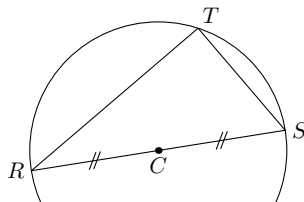
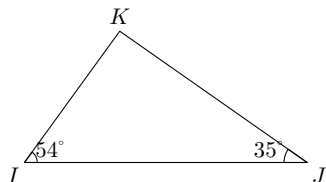
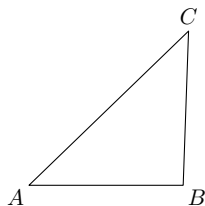
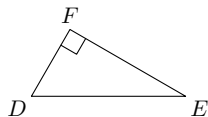


Peux-tu envisager d'utiliser la formule du cosinus dans les triangles suivants ? Justifie la réponse.



---

Faire prendre conscience aux élèves la nécessité d'avoir un triangle rectangle.

---