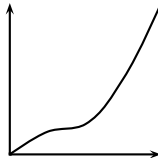
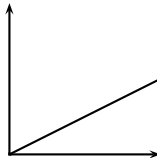
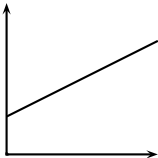


*François Meria*



Quel graphique représente une situation de proportionnalité ? Justifier clairement la réponse donnée.