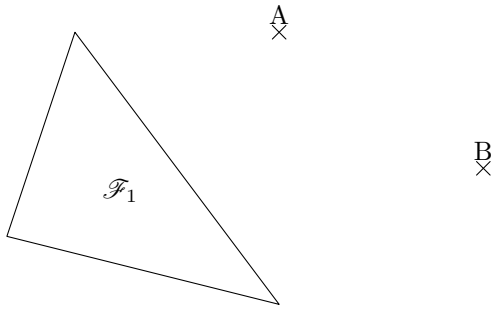
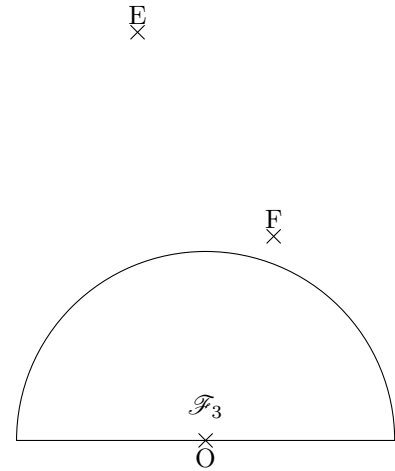


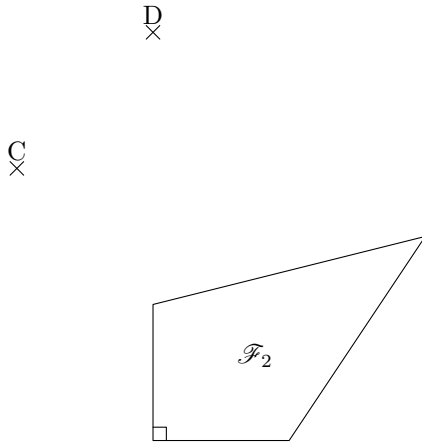
1/ Construis l'image de la figure  $\mathcal{F}_1$  par la translation qui transforme  $A$  en  $B$ .



3/ Construis l'image de la figure  $\mathcal{F}_3$  par la translation qui transforme  $F$  en  $E$ .



2/ Construis l'image de la figure  $\mathcal{F}_2$  par la translation qui transforme  $C$  en  $D$ .



4/ Construis l'image de la figure  $\mathcal{F}_4$  par la translation qui transforme  $K$  en  $L$ .

