

Observe les figures ci-dessous et coche toutes les phrases qui sont justes.

1/

Figure 1





Figure 2



L'aire de la figure 1 est la plus grande

Les deux figures ont la même aire

L'aire de la figure 2 est la plus grande

Le périmètre de la figure 1 est le plus grand

Les deux figures ont le même périmètre

Le périmètre de la figure 2 est le plus grand

- 
- 
- 
- 
- 
- 

2/

Figure 3

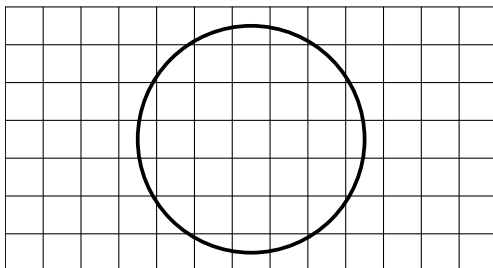
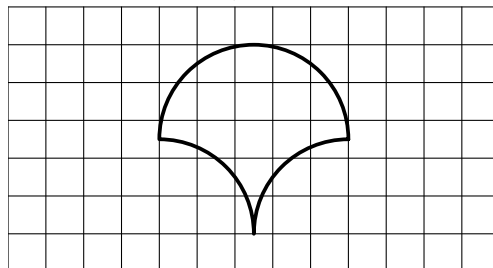


Figure 4



L'aire de la figure 3 est la plus grande

Les deux figures ont la même aire

L'aire de la figure 4 est la plus grande

Le périmètre de la figure 3 est le plus grand

Les deux figures ont le même périmètre

Le périmètre de la figure 4 est le plus grand

- 
- 
- 
- 
- 
-