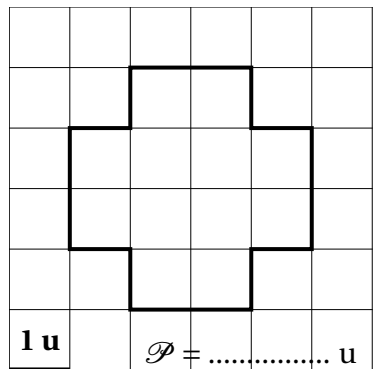
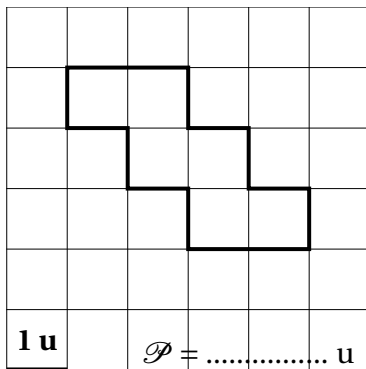
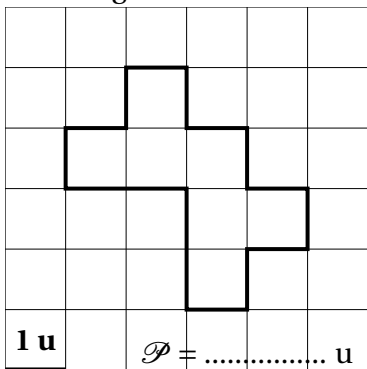
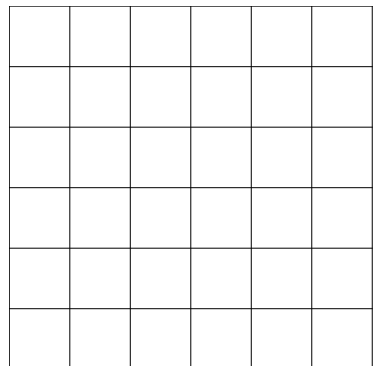
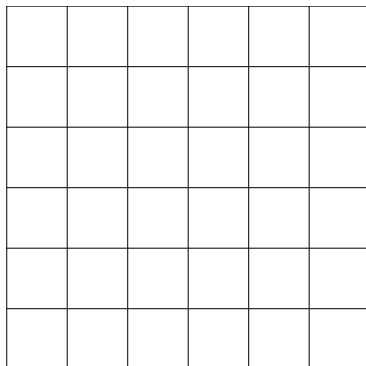
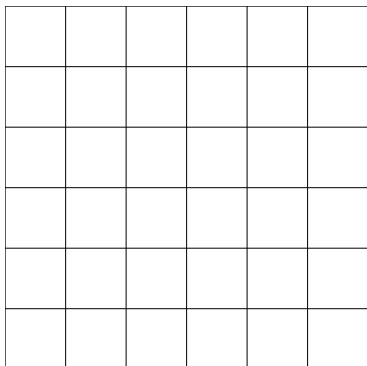


1/ Sachant qu'un côté de carré représente une unité de longueur, quel est le périmètre de chacune de ces figures ?



2/ Voici trois quadrillages.



En prenant pour unité de longueur un côté de carré, construire :

- (a) Sur le premier quadrillage une figure ayant un périmètre de 18 unités de longueur
- (b) Sur le second quadrillage une figure ayant un périmètre de 12 unités de longueur
- (c) Sur le troisième quadrillage une figure ayant un périmètre de 24 unités de longueur