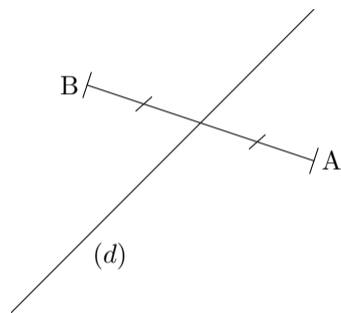
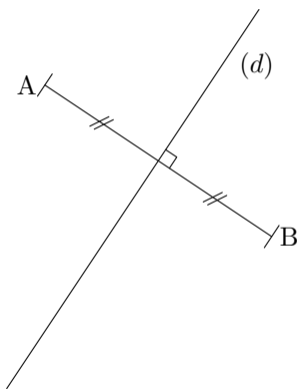
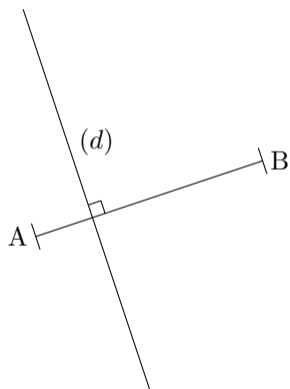


Dans chaque cas, indique si la droite (d) est la médiatrice du segment $[AB]$. Si ce n'est pas le cas, construis alors la médiatrice du segment $[AB]$.



(d) est la médiatrice de $[AB]$. (d) est la médiatrice de $[AB]$. (d) est la médiatrice de $[AB]$.

Vrai Faux

Vrai Faux

Vrai Faux