


Ces deux segments ont la même longueur.

VRAI

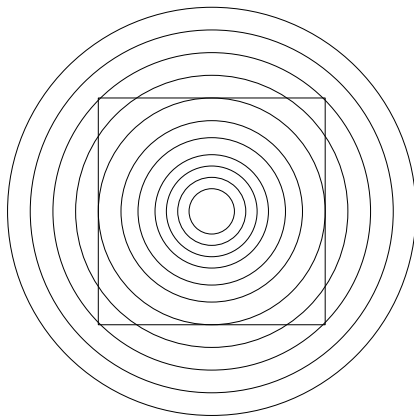
FAUX



Le polygone dessiné est un carré.

VRAI

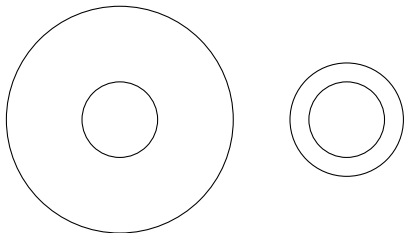
FAUX



Ces deux cercles centraux n'ont pas le même rayon.

VRAI

FAUX



Les segments $[AB]$ et $[BC]$ n'ont pas la même longueur.

VRAI

FAUX

