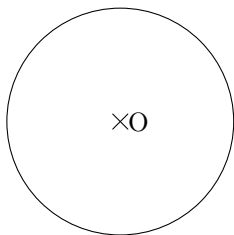


Compétence n° 1 : Je sais tracer des rayons d'un cercle.

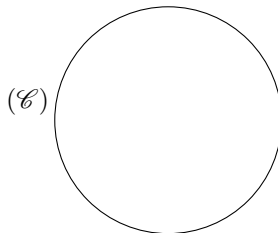
Trace sur le cercle de centre O ci-dessous trois rayons.

Code ta figure.



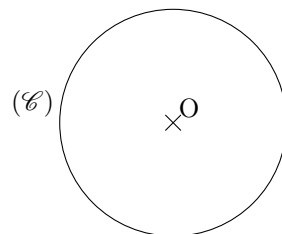
Compétence n° 2 : Je sais tracer des cordes d'un cercle.

Trace quatre cordes du cercle \mathcal{C} ci-dessous.



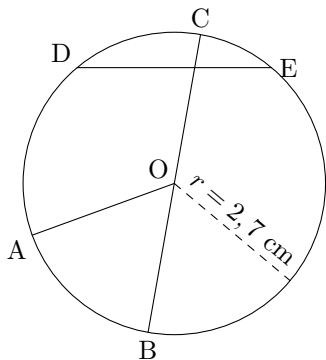
Compétence n° 3 : Je sais tracer des diamètres d'un cercle.

Trace trois diamètres du cercle \mathcal{C} ci-dessous.



Compétence n° 4 : Je connais le vocabulaire associé au cercle.

1/ Rédige un petit texte pour décrire la figure ci-dessous, en utilisant les mots *centre*, *rayon*, *diamètre* et *corde*.



.....

.....

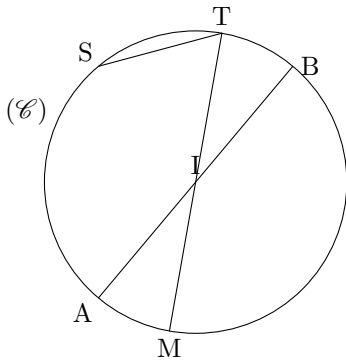
.....

.....

.....

.....

2/ Observe la figure ci-dessous et complète les phrases suivantes en utilisant les mots qui conviennent :



- (a) I est du cercle \mathcal{C} .
- (b) $[ST]$ est du cercle \mathcal{C} .
- (c) $[IM]$ est du cercle \mathcal{C} .
- (d) $[AB]$ est du cercle \mathcal{C} .
- (e) $[IB]$ est du cercle \mathcal{C} .