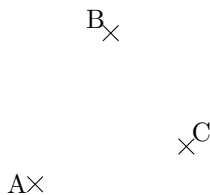


Corrige les éventuelles erreurs de Magalie dans son exercice.

**Question 1** Place trois points  $A$ ,  $B$  et  $C$  distincts et non alignés. Elle a fait

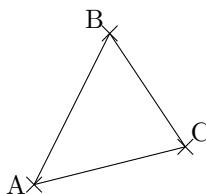


Est-ce exact ?

Oui.

Non car .....

**Question 2** Trace les droites  $(AB)$ ,  $(AC)$  et  $(BC)$ . Elle a fait

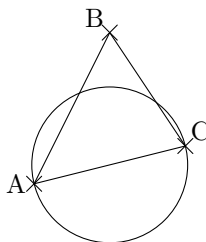


Est-ce exact ?

Oui.

Non car .....

**Question 3** Trace le cercle de centre  $A$  et de rayon  $AC$ . Elle a fait



Est-ce exact ?

Oui.

Non car .....

---

Analyse d'erreur. C'est un exercice simple si le vocabulaire est bien maîtrisé.

---