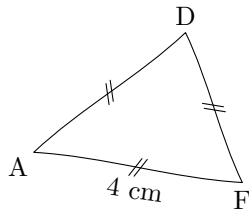
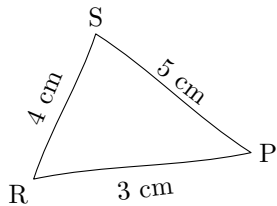
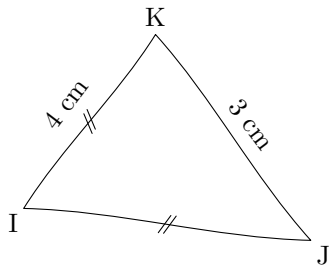


Voici plusieurs triangles construits à main levée.



1/ Avant de les construire, quels sont les triangles dont on peut expliquer la nature ? Justifie la nature de chacun de ces triangles.

2/ Construis tous les triangles en vraie grandeur.