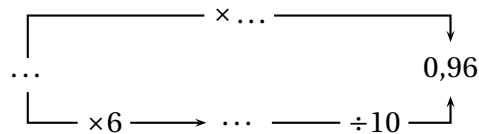
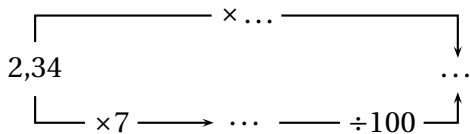
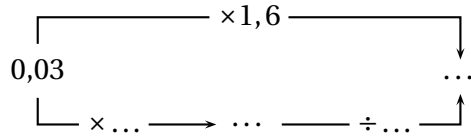
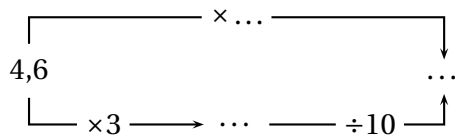


d'après IREM Strasbourg (☆☆☆☆)

Recopie et complète les schémas de calculs suivants :



À l'aide des quatre schémas ci-dessus, complète les opérations suivantes avec un nombre décimal.

$4,6 \times \dots = \dots$

$0,03 \times 1,6 = \dots$

$2,34 \times \dots = \dots$

$\dots \times \dots = 0,96$