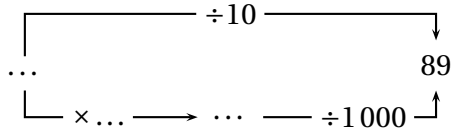
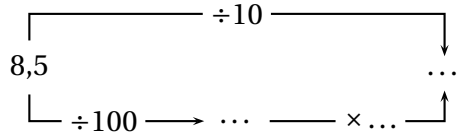
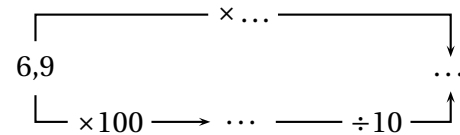
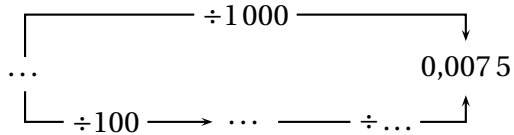
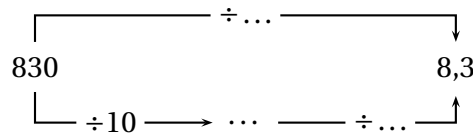
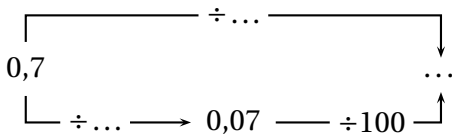
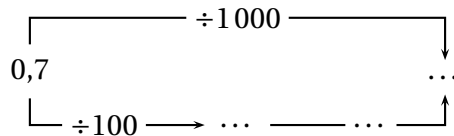
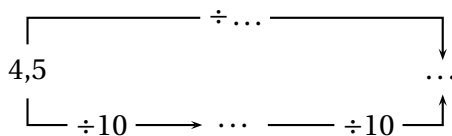


1/ Recopie et complète les schémas de calculs suivants :



2/ Complète les phrases ci-dessous après avoir observé les schémas ci-dessus :

- Diviser par 10, puis diviser par 10 revient à
- Diviser par 100, puis diviser par 10 revient à
- Diviser par 10, puis diviser par 100 revient à
- Multiplier par 100, puis diviser par 10 revient à
- Diviser par 100, puis multiplier par 10 revient à