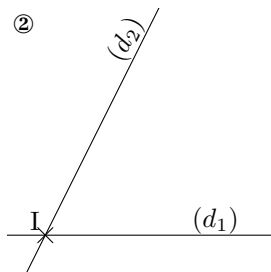


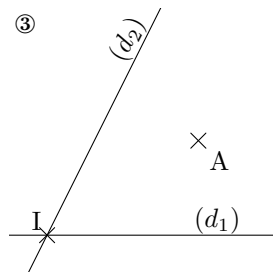
①



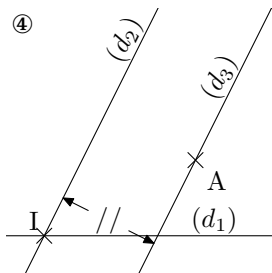
②



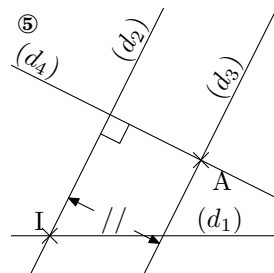
③



④



⑤



On a représenté ci-dessus le film de la construction d'une figure en cinq étapes.

Écris les cinq instructions qui permettent de réaliser la figure 5 à partir du film de la construction, en les numérotant de 1 à 5.