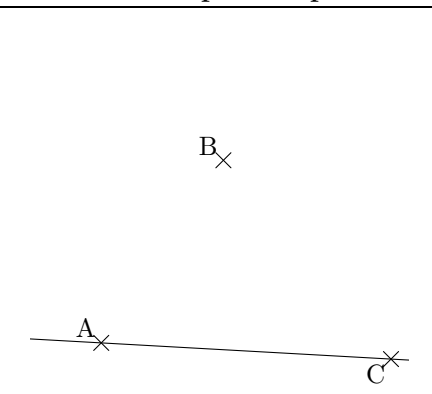
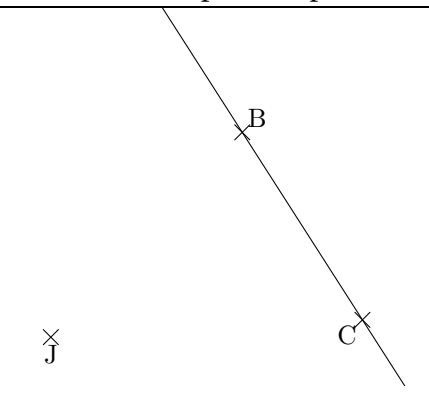
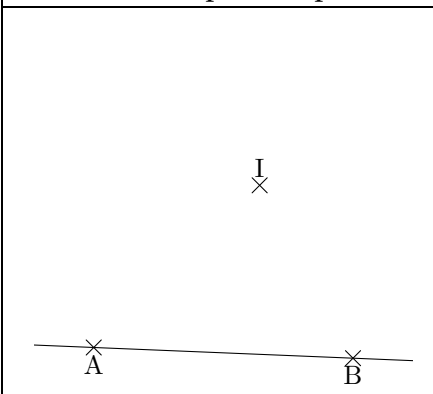


Construis la perpendiculaire à la droite (AB) passant par I .

Construis la perpendiculaire à la droite (BC) passant par J .

Construis la perpendiculaire à la droite (AC) passant par B .



Construis la perpendiculaire à la droite (AB) passant par C .

Construis la perpendiculaire à la droite (BC) passant par A .

Construis la perpendiculaire à la droite (DE) passant par F .

