


# LE TEMPS S'ÉCOULE (2).


( ★ ★ ★ ★ ★ )

Dans chacun des cas suivants, deux horloges sont données. Indique le temps qui s'est écoulé entre l'horloge de départ et l'horloge d'arrivée.

**Cas n° 1** Temps passé : .....




Horloge de départ




Horloge d'arrivée

**Cas n° 3** Temps passé : .....




Horloge de départ




Horloge d'arrivée

**Cas n° 2** Temps passé : .....




Horloge de départ




Horloge d'arrivée

**Cas n° 4** Temps passé : .....



Horloge de départ



Horloge d'arrivée

Exercice à rapprocher de exo31 . tex. Travail sur le temps (connaissant l'heure de départ et l'heure de fin, calcul de la durée). Les horloges sont présentes pour aider les élèves à positionner les aiguilles de départ et d'arrivée.