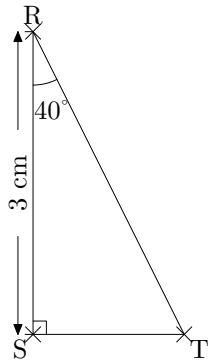
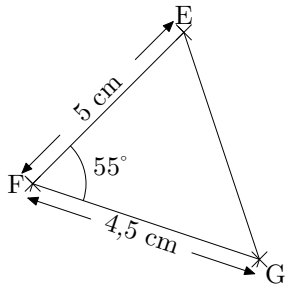
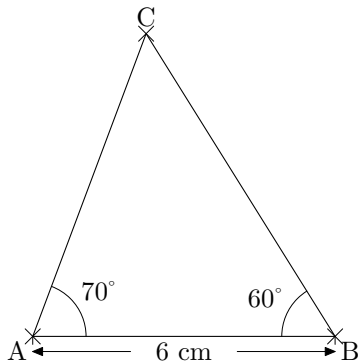


Les figures suivantes ne sont pas en vraie grandeur.

1/ Construis les figures en respectant les mesures indiquées.



2/ Mesure les angles \widehat{ACB} , \widehat{RTS} et la longueur EG.