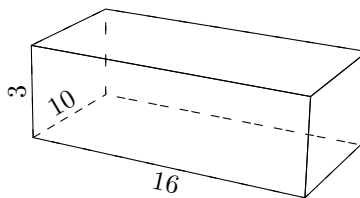
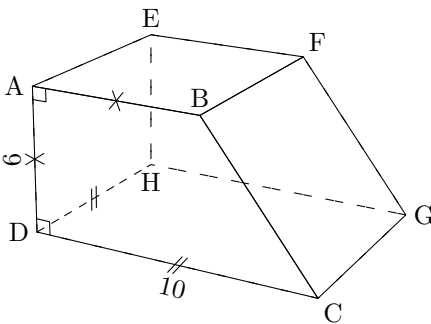


Les différentes figures ne sont pas en vraie grandeur. On utilisera toutes les mesures données sur ces figures. L'unité de longueur est le centimètre.

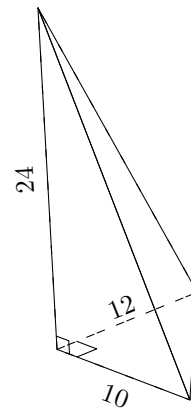
1/ Compare les volumes des solides ci-dessous.



Solide n° 1 : Pavé droit.

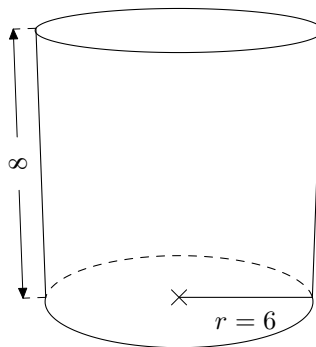


Solide n° 2 : Prisme droit.

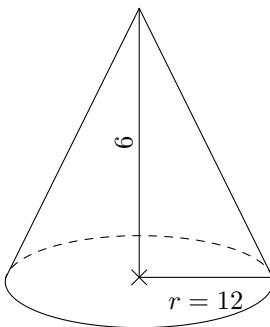


Solide n° 3 : Pyramide.

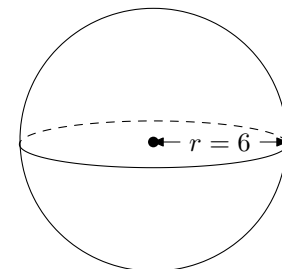
2/ Compare les volumes des solides ci-dessous.



Solide n° 4 : Cylindre de révolution.



Solide n° 5 : Cône de révolution.



Solide n° 6 : Boule.