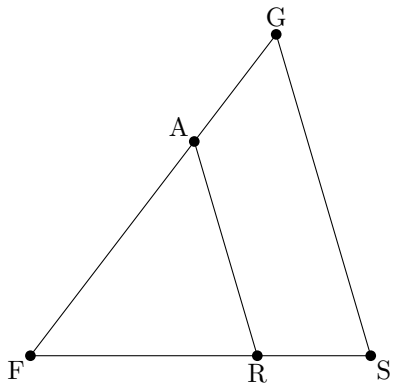
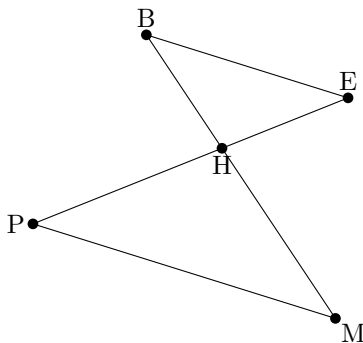


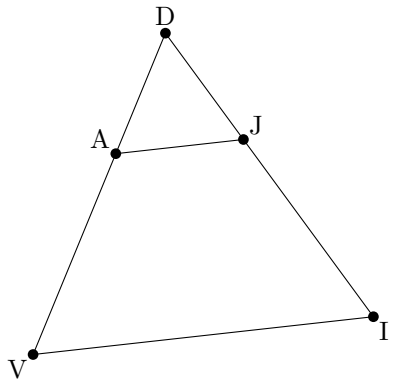
On donne  $FA = 5$ ;  $FG = 7,5$ ;  $FR = 6$ ;  $FS = 9$ . Les droites  $(AR)$  et  $(GS)$  sont-elles parallèles? (oui)



On donne  $HB = 1,8$ ;  $HE = 1,2$ ;  $HP = 1,6$ ;  $HM = 2,4$ . Les droites  $(BE)$  et  $(PM)$  sont-elles parallèles? (oui)



On donne  $AD = 3$ ;  $AV = 6$ ;  $DJ = 2,4$ ;  $JI = 4$ . Les droites  $(AJ)$  et  $(VI)$  sont-elles parallèles? (non)



On donne  $UL = 2$ ;  $UK = 5$ ;  $UH = 7$ ;  $ZU = 17$ . Les droites  $(LK)$  et  $(ZH)$  sont-elles parallèles? (non)

