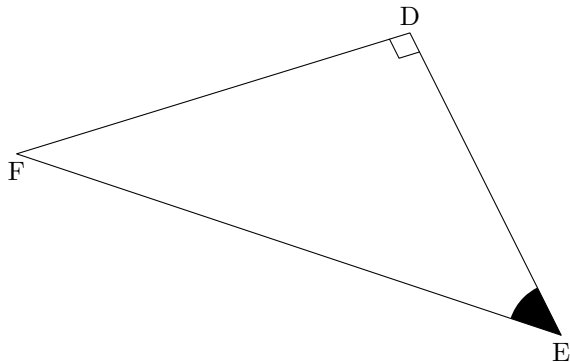
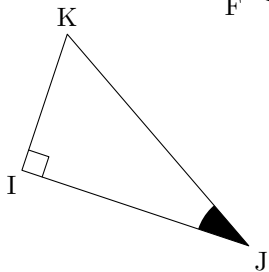
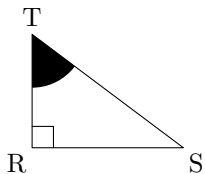


(★★★★★)

Pour chacun des cas ci-dessous, exprime, en fonction des cotés, le cosinus, le sinus et la tangente de chaque angle coloré.



---

Utilisation directe des formules. Repérage des côtés adjacents, opposés à chaque angle.

---