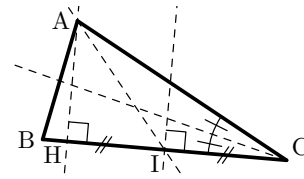


Interrogation de cours sur chacune des droites remarquables dans le triangle

Complète les phrases suivantes :

• Médiatrice :

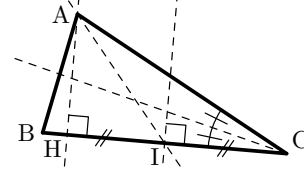
La médiatrice d'un _____ est une _____ qui



Repasse en rouge une médiatrice

• Médiane :

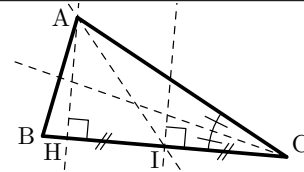
La médiane est une _____ qui



Repasse en vert une médiane

• Hauteur :

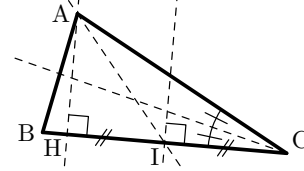
La hauteur est une _____ qui _____



Repasse en bleu une hauteur

• Bissectrice :

La bissectrice d'un _____ est une _____ qui



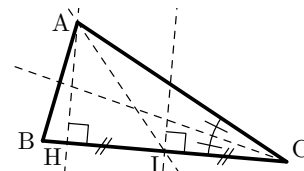
Repasse en noir une bissectrice

Interrogation de cours sur chacune des droites remarquables dans le triangle

Complète les phrases suivantes :

• Médiatrice :

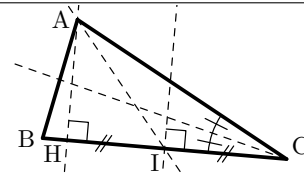
La médiatrice d'un _____ est une _____ qui



Repasse en rouge une médiatrice

• Médiane :

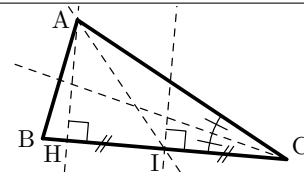
La médiane est une _____ qui



Repasse en vert une médiane

• Hauteur :

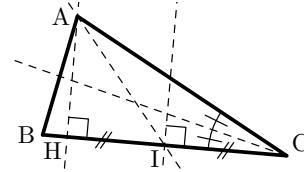
La hauteur est une _____ qui _____



Repasse en bleu une hauteur

• Bissectrice :

La bissectrice d'un _____ est une _____ qui



Repasse en noir une bissectrice