

Interrogation de cours

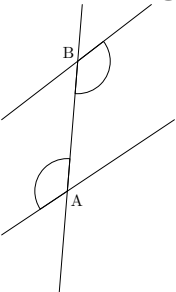
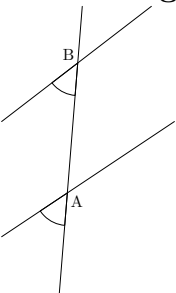
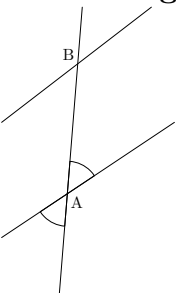
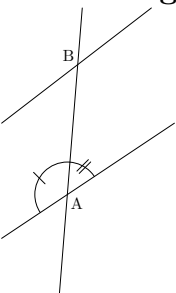
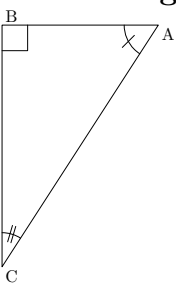
Pour chaque question, une seule des 4 réponses proposées est exacte. **Barème :**

Entoure celle que tu choisis

Tu gagnes 2 points par bonne réponse.

Tu perds 1 point par réponse fausse.

Aucune ou plusieurs réponses vaut 0

Enoncés	Réponse A	Réponse B	Réponse C	Réponse D
Sur la figure 	\hat{A} et \hat{B} sont opposés par le sommet	\hat{A} et \hat{B} sont alternes-internes	\hat{A} et \hat{B} sont correspondants	\hat{A} et \hat{B} sont égaux
Sur la figure 	\hat{A} et \hat{B} sont opposés par le sommet	\hat{A} et \hat{B} sont alternes-internes	\hat{A} et \hat{B} sont correspondants	\hat{A} et \hat{B} sont égaux
Sur la figure 	Les angles codés sont opposés par le sommet	Les angles codés sont alternes-internes	Les angles codés sont correspondants	Les angles codés ne sont pas égaux
Sur la figure 	Les angles codés sont supplémentaires non adjacents	Les angles codés sont supplémentaires adjacents	Les angles codés sont complémentaires non adjacents	Les angles codés sont complémentaires adjacents
Sur la figure 	\hat{A} et \hat{C} sont supplémentaires non adjacents	\hat{A} et \hat{C} sont supplémentaires adjacents	\hat{A} et \hat{C} sont complémentaires non adjacents	\hat{A} et \hat{C} sont complémentaires adjacents