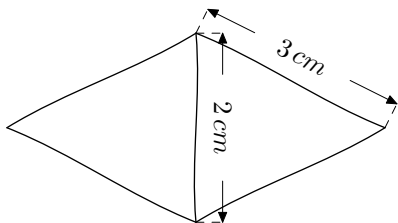


Devoir en classe**Exercice 1** (sur 3 points) LOSANGE

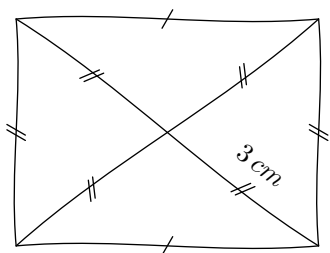
Construire ce losange en vraies grandeurs.

**Exercice 2** (sur 4 points) LOSANGE BIS

On appelle O le point d'intersection des diagonales du losange TRES. On sait que $TO = 2\text{ cm}$ et $OR = 4\text{ cm}$. Construire le losange TRES.

Exercice 3 (sur 3 points) RECTANGLE

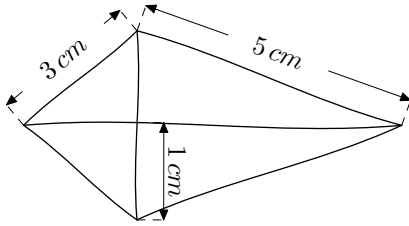
Construire ce rectangle en vraies grandeurs.

**Exercice 4** (sur 3 points) RECTANGLE BIS

Construire un rectangle IJKL tel que $IJ = 6\text{ cm}$ et $LI = 3\text{ cm}$.

Exercice 5 (sur 3 points) CERF-VOLANT

Construire ce cerf-volant en vraies grandeurs.

**Exercice 6** (sur 4 points) CERF-VOLANT BIS

Construire un cerf-volant VOLE tel que $VL = 7\text{ cm}$, $OE = 4\text{ cm}$, $[VL]$ coupe $[OE]$ en son milieu I et $VI = 2\text{ cm}$.

Exercice 7 (sur 2 points) BONUS

Construire un carré de 6 cm de diagonale.