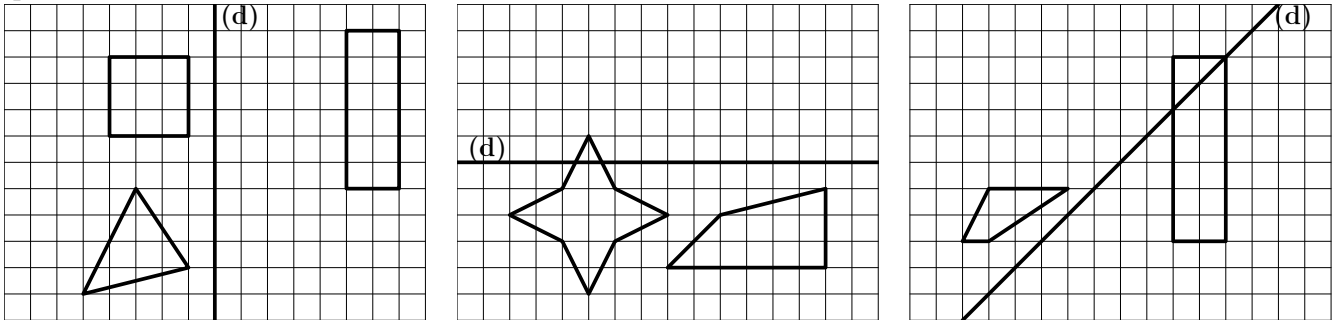


**Devoir en classe**

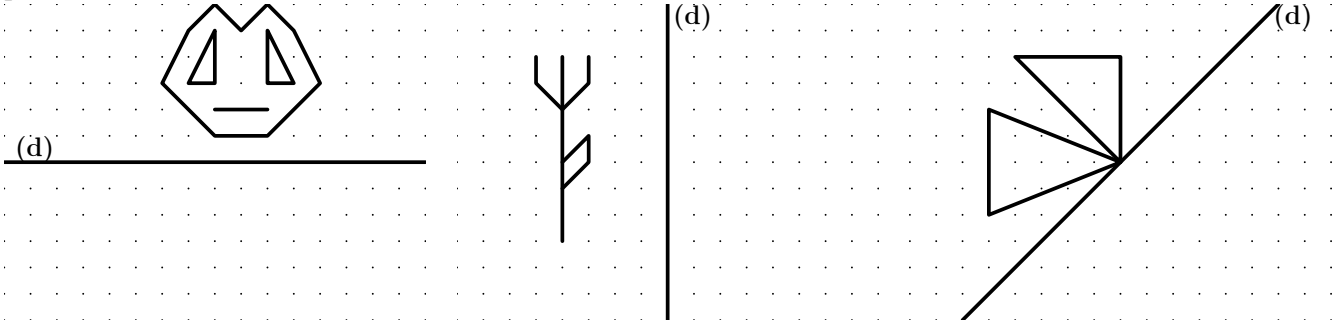
**Exercice 1** (sur 6 points) **SUR QUADRILLAGE**

Construit le symétrique des figures ci-dessous par rapport à la droite (d) en utilisant la papier quadrillé.



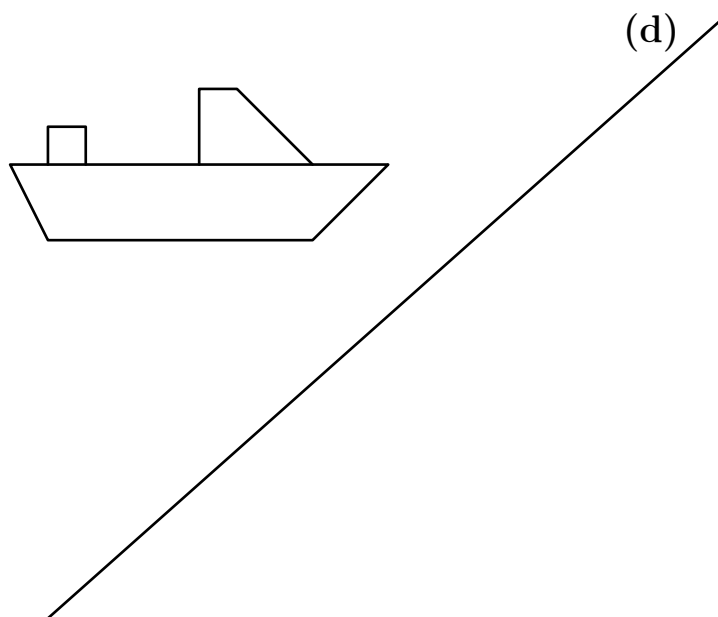
**Exercice 2** (sur 6 points) **SUR PAPIER POINTÉ**

Construit le symétrique des figures ci-dessous par rapport à la droite (d) en utilisant la papier pointé.



**Exercice 3** (sur 8 points) **SYMÉTRIE AXIALE SUITE**

Tracer à l'aide des instruments de dessin, le symétrique du bateau par rapport à la droite (d).



Nom :

Prénom :

6<sup>e</sup>

