

# LA DÉMONSTRATION

Activité

Classe de 4eme

Ces deux segments ont la même longueur.

VRAI

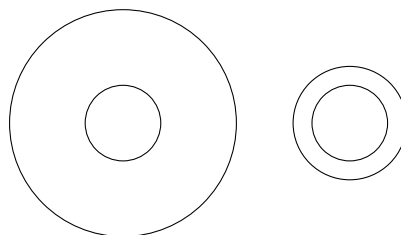
FAUX



Ces deux cercles centraux n'ont pas le même rayon.

VRAI

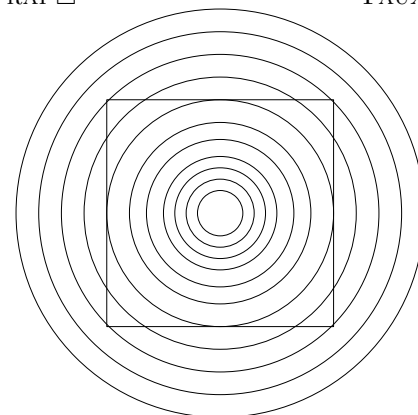
FAUX



Le polygone dessiné est un carré.

VRAI

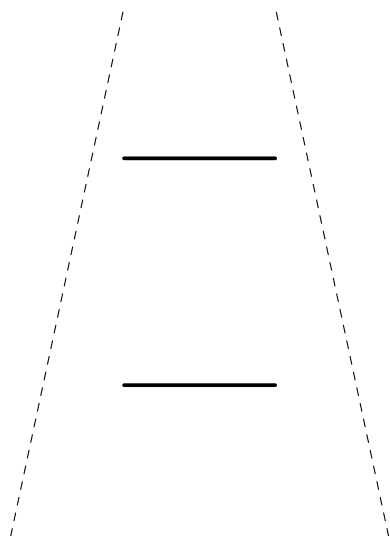
FAUX



Les segments gras sont de même longueur.

VRAI

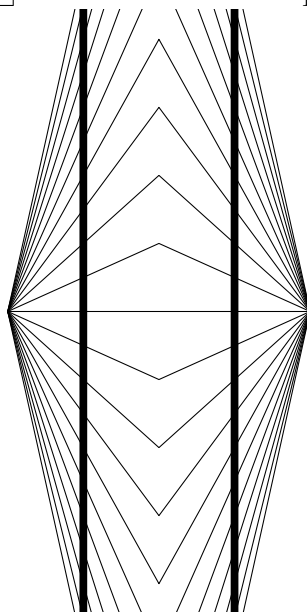
FAUX



Les droites noires sont parallèles.

VRAI

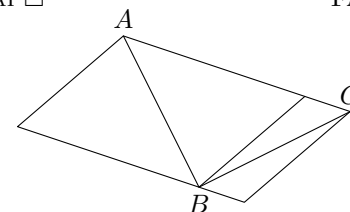
FAUX



Les segments  $[AB]$  et  $[BC]$  n'ont pas la même longueur.

VRAI

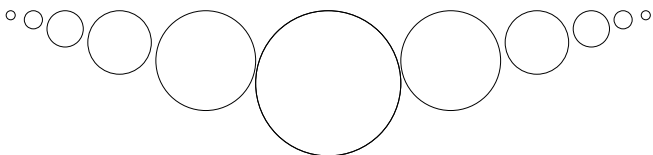
FAUX



Les hauts des cercles sont alignés.

VRAI


FAUX



Il existe des tâches grises sur ce dessin.

VRAI

FAUX



**Conclusion :** .....

.....

.....