
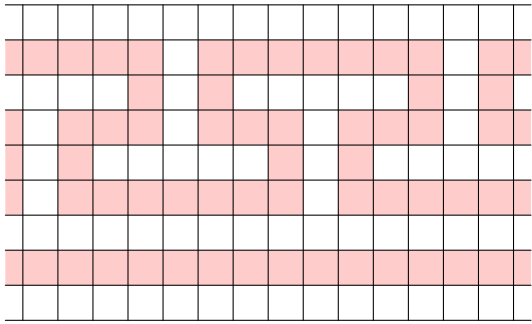


## REPRODUCTION DE FIGURES

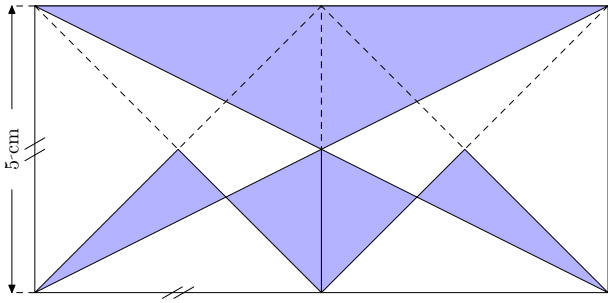
### Exercice 1 SUR PAPIER QUADRILLÉ.

Les motifs ci-dessous ont été trouvés sur les amphores des VII<sup>e</sup> et VIII<sup>e</sup> siècle avant Jésus Christ. Copie ces deux motifs sur ton cahier, et continue la frise (premier motif) sur toute la largeur de ton cahier.

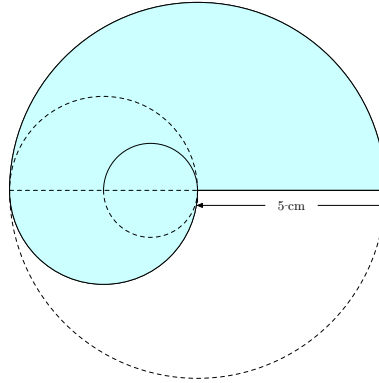


### Exercice 2 SUR PAPIER BLANC

Copie les figures suivantes. *Des traits de construction ont été laissés pour faciliter la reproduction.*

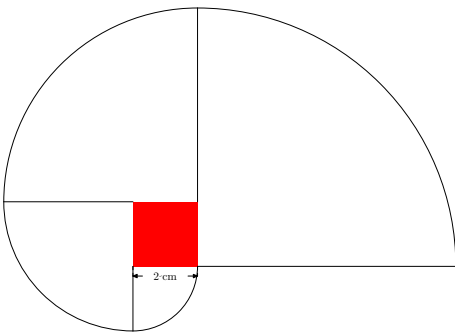


La largeur du rectangle vaut 5 cm.

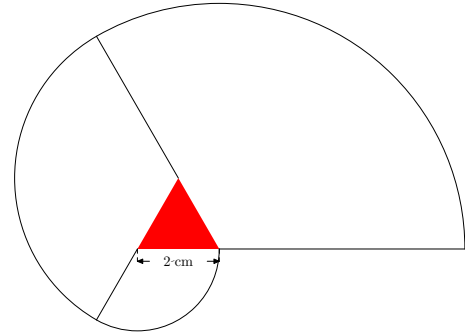


Le rayon du grand cercle vaut 5 cm.

**Construit les figures suivantes :**



Le carré a 2 cm de coté.



Le triangle est équilatéral et a 2 cm de coté.

**Construit le rectangle ABCD à partir du carré AEFG, d'après le codage de la figure :**

